


Bilangan Bulat (2)_soal

Kelas 4 SD

1. Bilangan bulat -515 dibaca
 - A. Negatif lima ratus lima belas
 - B. Negatif lima ratus lima puluh Satu
 - C. Negatif seratus lima puluh Satu
 - D. Negatif seratus lima puluh
2. Negatif empat pulu delapan ditulis
 - A. -84
 - B. -48
 - C. 48
 - D. 84
3. Bilangan -3 pada garis bilangan terletak di sebelah . . . bilangan nol.
 - A. Kanan
 - B. Kiri
 - C. Atas
 - D. Tengah

4. Perhatikan garis bilangan berikut !



Bilangan yang tepat untuk mengganti huruf P dan Q pada garis bilangan tersebut adalah . . .

- A. $P = 2 ; Q = -3$
 - B. $P = 2 ; Q = 3$
 - C. $P = -2 ; Q = -3$
 - D. $P = -2 ; Q = 3$
5. Empat satuan ke kiri dari nol adalah bilangan
 - A. 5
 - B. 4
 - C. -4
 - D. -5

6. Delapan satuan ke kanan dari nol adalah bilangan
- A. 8
 - B. 7
 - C. -7
 - D. -8
7. Lima satuan ke kiri dari bilangan 2 adalah bilangan
- A. -5
 - B. -3
 - C. 2
 - D. 3
8. Empat satuan ke kanan dari bilangan -1 adalah bilangan
- A. -1
 - B. 3
 - C. 4
 - D. 5
9. Lawan dari -441 adalah
- A. 441
 - B. 414
 - C. $\frac{1}{441}$
 - D. -144
10. Urutan bilangan -3, 4, 5, -2, 1, -7 mulai dari yang terbesar adalah
- A. -7, -3, -2, 5, 4, 1
 - B. -2, -3, -7, 5, 4, 1
 - C. 5, 4, 1, -2, -3, -7
 - D. 5, 4, 1, -7, -3, -2
11. Hasil dari $45 - (-45) = \dots$
- A. -45
 - B. 0

- C. 45
- D. 90

12. Nilai dari $-23 + (-23)$ adalah

- A. -46
- B. -23
- C. 0
- D. 46

13. Lawan dari 712 adalah

- A. $\frac{1}{712}$
- B. 217
- C. -217
- D. -712

14. Hasil dari $37 + (-25) - 19$ adalah

- A. 31
- B. 7
- C. -7
- D. -31

15. Nilai dari $-51 - (-51) =$

- A. 102
- B. 0
- C. -51
- D. -102

16. Salsa memiliki pita sepanjang 8 meter. Digunakan untuk membuat hiasan 3 meter. Sisa pita Salsa sekarang ada . . . meter.

- A. 8
- B. 5
- C. 3
- D. 2

17. Hasil dari $6 - 9 + 4 = \dots$

- A. -3
- B. 1
- C. 4
- D. 7

18. Nilai dari $(-45) - 70 - (-28) = \dots$

- A. -143
- B. -115
- C. -87
- D. 53

19. Fajar kalah 15 kelereng ketika bermain kelereng dengan temannya.

Bilangan bulat dari pernyataan di atas adalah \dots

- A. -15
- B. 0
- C. 15
- D. 25

20. Hasil dari $35 - (-24) - 31 = \dots$

- A. 90
- B. 59
- C. 31
- D. 28

21. Nilai dari $42 - 45 - (-48) = \dots$

- A. 48
- B. 45
- C. -3
- D. -51

22. Sebuah kapal selam berada 7 meter di bawah permukaan laut. Kemudian kapal tersebut naik 3 meter. Posisi kapal sekarang berada \dots meter di bawah permukaan laut.

- A. 7
- B. 4

- C. 3
- D. -10

23. Nilai dari $8 + (-25) + (-11) = \dots$

- A. -28
- B. -17
- C. -11
- D. -6

24. Adnan berdiri di titik -5, Beni berdiri di titik -3, Catur berdiri di titik 2 dan Desta berdiri di titik 4. Siapakah yang berdiri paling jauh dari titik nol ?

- A. Adnan
- B. Beni
- C. Catur
- D. Desta

25. Dari soal nomor 24, siapakah yang berdiri paling dekat dari titik nol ?

- A. Adnan
- B. Beni
- C. Catur
- D. Desta

26. Bilangan -10 dikurangi bilangan -6 menghasilkan bilangan \dots

- A. 16
- B. 4
- C. -4
- D. -16

27. Hasil dari $23 + (-31) - 27 = \dots$

- A. -35
- B. -27
- C. -19
- D. -8

28. Festi berjalan 4 satuan ke kiri dari titik -3, kemudian ia berjalan lagi 7 satuan ke kanan.

Posisi Festi sekarang berada di titik

- A. 7
- B. 0
- C. -3
- D. -4

29. Nilai dari $(-121) - (-144) = \dots$

- A. -23
- B. -22
- C. 22
- D. 23

30. Hasil dari $132 - (-49) - (-25) = \dots$

- A. 180
- B. 181
- C. 206
- D. 207

Bilangan Bulat (2)_pembahasan

Kelas 4 SD

1. Jawab : A

Bilangan bulat -515 dibaca negatif lima ratus lima belas

2. Jawab : B


Negatif empat puluh delapan ditulis -48

3. Jawab : B

Jika garis bilangan mendatar maka bilangan -3 terletak di sebelah *kiri* bilangan nol.

Jika garis bilangan tegak maka bilangan -3 terletak di sebelah *bawah* bilangan nol.

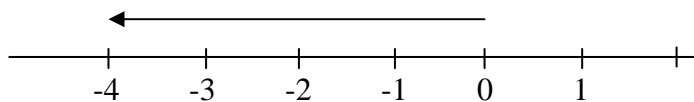
4. Jawab : D



Bilangan yang tepat untuk mengganti huruf P dan Q pada garis bilangan tersebut

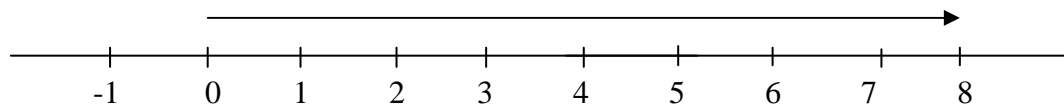
$P = -2$; $Q = 3$

5. Jawab : C



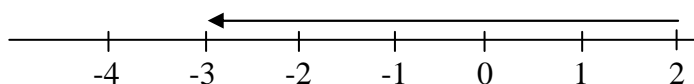
Empat satuan ke kiri dari nol adalah bilangan -4

6. Jawab : A



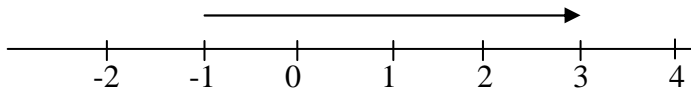
Delapan satuan ke kanan dari nol adalah bilangan 8

7. Jawab : B



Lima satuan ke kiri dari bilangan 2 adalah bilangan -3

8. Jawab : B



Empat satuan ke kanan dari bilangan -1 adalah bilangan 3

9. Jawab : A

Lawan dari -441 adalah 441

10. Jawab : C

Urutan bilangan mulai dari yang terbesar adalah 5, 4, 1, -2, -3, -7

11. Jawab : D

$$45 - (-45) = 45 + 45 = 90$$

12. Jawab : A

$$-23 + (-23) = -46$$

13. Jawab : D

Lawan dari 712 adalah -712

14. Jawab : C

$$37 + (-25) - 19 = 12 - 19 = -7$$

15. Jawab : B

$$-51 - (-51) = -51 + 51 = 0$$

16. Jawab : B

$$\text{Sisa pita Salsa} = 8 - 3 = 5 \text{ meter}$$

17. Jawab : B

$$6 - 9 + 4 = (-3) + 4 = 1$$

18. Jawab : C

$$(-45) - 70 - (-28) = (-45) - 70 + 28$$

$$= (-115) + 28 = -87$$

19. Jawab : A

Kalah 15 kelereng ditulis -15

20. Jawab : D

$$\begin{aligned} 35 - (-24) - 31 &= 35 + 24 - 31 \\ &= 59 - 31 = 28 \end{aligned}$$

21. Jawab : B

$$\begin{aligned} 42 - 45 - (-48) &= 42 - 45 + 48 \\ &= -3 + 48 = 45 \end{aligned}$$

22. Jawab : B

Posisi kapal selam = $7 - 3 = 4$ meter di bawah permukaan laut.

23. Jawab : A

$$8 + (-25) + (-11) = (-17) + (-11) = -28$$

24. Jawab : A

Adnan berdiri di titik -5

Beni berdiri di titik -3

Catur berdiri di titik 2

Desta berdiri di titik 4.

Yang berdiri paling jauh dari titik nol adalah Adnan

25. Jawab : C

Adnan berdiri di titik -5

Beni berdiri di titik -3

Catur berdiri di titik 2

Desta berdiri di titik 4.

Yang berdiri paling dekat dari titik nol adalah Catur

26. Jawab : C

$$(-10) - (-6) = (-10) + 6 = -4$$

27. Jawab : A

$$23 + (-31) - 27 = (-8) - 27 = - 35$$

28. Jawab : B

$$(-3) - 4 + 7 = (-7) + 7 = 0$$

29. Jawab : D

$$(-121) - (-144) = (-121) + 144 = 23$$

30. Jawab : C

$$\begin{aligned} 132 - (-49) - (-25) &= 132 + 49 + 25 \\ &= 181 + 25 = 206 \end{aligned}$$